



i-1

**T.C.
MİLLÎ EĞİTİM BAKANLIĞI**

AÇIK İLKÖĞRETİM OKULU
2007 - 2008 ÖĞRETİM YILI NOT YÜKSELTME SINAVI
1. OTURUM: 17 MAYIS 2008 Saat: 10.00

Adayın Adı ve Soyadı :

Aday Numarası :

DİKKAT:1. Bu oturumda, 9 derse ait test soruları yer almaktadır.

TÜRKÇE - 6

FEN BİLGİSİ - 6

SOSYAL BİLGİLER - 6

GÜZEL KONUŞMA ve YAZMA - 6

TURİZM - 6

TÜRKÇE - 8

FEN BİLGİSİ - 8

VATANDAŞLIK ve İNSAN HAKLARI - 8

DİN KÜLTÜRÜ ve AHLAK BİLGİSİ - 8

2. Adaylar soru kitapçıklarını kontrol ederek baskı hatası olan kitapçığın değiştirilmesi için sınav başlamadan önce salon sorumlularına başvuracaklardır.
3. Sınavda hesap makinesi, cep telefonu ve çağrı cihazı kullanılması yasaktır. Bu cihazları sınav başlamadan önce salon başkanına teslim ediniz.

CEVAP KÂĞIDI İLE İLGİLİ AÇIKLAMA

1. Cevap kâğıdı üzerine yapacağınız işaretlemelerde kurşunkaleminden başka hiçbir kalem kullanmayınız.
2. Verilen cevap kâğıdında yazılı olan bilgilerin size ait olup olmadığını kontrol ediniz. Size ait değilse salon sorumlularına söyleyiniz. Adınıza yazılı cevap kâğıdı bulunamıyorsa veya cevap kâğıdınız kullanılamayacak şekilde bozursa, verilecek olan yedek cevap kâğıdına, kimliğinizle ilgili bilgileri, salon başkanının açıklamalarına göre yazınız.
3. Sınavda tek cevap kâğıdı kullanılacaktır. Cevaplarınızı cevap kâğıdındaki ilgili sütunlara aşağıdaki örnekte olduğu gibi yuvarlağı, dışına taşırmadan işaretleyiniz. Yanlış karalamalarınızı düzeltirken yuvarlağın içini temizce siliniz. Cevap kâğıdınızı buruşturmayınız, katlamayınız ve üzerine gereksiz işaret koymayınız.

ÖRNEK KODLAMA:

(A)

(B)

(C)

(D)

SORU KİTAPÇIĞI İLE İLGİLİ AÇIKLAMA

1. Her ders için **20 soru** bulunmaktadır. Bu oturum için, toplam **150 dakikalık** cevaplama süreniz vardır.
Not: Öğrencinin kaç dersi olursa olsun, isterse bu sürenin tamamını kullanabilir.
2. Her sorunun dört seçeneğı vardır. Dört seçenekten sadece bir tanesi doğru cevaptır. Doğru bulduğunuz seçeneğı, cevap kâğıdında o soru için ayrılan yerde bularak işaretleyiniz.
3. Size ayrı bir karalama kâğıdı verilmeyecektir. Soru kitapçığınızın içindeki boş alanları karalama yapmak için kullanabilirsiniz.
4. Puanlamada, her doğru cevaba puan verilecek; yanlış cevaplarınız dikkate alınmayacaktır.
5. Sınavın bitiminde cevap kâğıdınızı ve soru kitapçığınızı salon sorumlularına teslim etmeyi unutmayınız.

BAŞLAYINIZ DENİLMEDEN SORU KİTAPÇIĞINI AÇMAYINIZ

1. OTURUM

TÜRKÇE - 6

1. Aşağıdaki cümlelerin hangisinde birbiriyle zıt anlamlı iki sözcük bir arada kullanılmıştır?

- A) Okuldan erken çıkmama rağmen eve geç gittim.
- B) Bugün kent meydanı oldukça kalabalıktı.
- C) Çocuk annesine bakarken ağlamak üzereydi.
- D) Doğum günümü unutacağını sanmıyorum.

2. Aşağıdaki cümlelerin hangisinde isim tamlaması yoktur?

- A) Bahçe kapısından içeri girdi.
- B) Adeta gözlerinin içi gülüyordu.
- C) Mutluluktan uçuyordu sanki.
- D) Koltuğun kenarına ilişiverdi.

3. Aşağıdaki cümlelerin hangisinde soru anlamı bir sıfatla sağlanmıştır?

- A) İstedğim kitapları nasıl göndereceksin?
- B) Benim gelmeyeceğimi sana kim söyledi?
- C) Bu belgeyi alabilmek için kaç saat bekledin?
- D) Toplantıya katılamayacağını neden söylemedin?

4. O kadar dolu ki toprağın şarla,
Bir değil sanki bin vatan gibisin.
Yüce dağlarına çöken dumanla
Göklerde yazılı destan gibisin.

Hâlit Fahri Ozansoy

Bu dördtlüğün konusu aşağıdakilerden hangisidir?

- A) Toprak
- B) Destan
- C) Yüce dağlar
- D) Vatan

5. Benden selam olsun Bolu Beyi'ne
Göndersin oğlumu göresim geldi
Muhabbeti düştü canım evine
Göndersin oğlumu göresim geldi

Köroğlu

Bu dördtlüğün teması aşağıdakilerden hangisidir?

- A) Özlem
- B) Aşk
- C) Nefret
- D) Gurbet

6. Aşağıdakilerin hangisinde fiil “zaman” yönünden belirtilmiştir?

- A) Akşamki filmi sen de izledin mi?
- B) Sınav sonuçları açıklandı mı?
- C) Yarın güzel bir gezi planı yapabiliriz.
- D) Zaman su gibi akıp geçiyor.

7. “Çok olun () çocuklar () çok olun.”

Yukarıdaki dizede boş bırakılan yerlere hangi noktalama işaretleri getirilmelidir?

- A) (,) (,) B) (:) (.) C) (!) (,) D) (...) (.)

8. Aşağıdakilerin hangisinde fiil, soru yönünden belirtilmiştir?

- A) Onun nasıl kitaplardan hoşlandığını biliyor musunuz?
- B) Anneler kaç gün sonra gelecekler?
- C) Eve giderken hangi otobüse bineceğiz?
- D) Niçin gökyüzü bu kadar karardı?

9. Aşağıdakilerin hangisinde “ile” sözcüğü bağlaç olarak kullanılmıştır?

- A) Ali buraya tren ile geldi.
- B) Ayşe ile Ahmet iki kardeşler.
- C) Bilgisayar ile oynamayı severim.
- D) İnsanlar ile ilişkilerim iyidir.

10. Aşağıdakilerin hangisinde bağlaç yoktur?

- A) Hava ve toprak git gide kirleniyor.
- B) Onu çok aradım fakat bulamadım.
- C) Kitaplarla arası pek iyi değil.
- D) Akşam sizi de bekliyoruz.

11. Coşku, heyecan, seslenme, şaşkınlık gibi duygularımızı belirten sözcüklere ne denir?

- A) Sıfat
- B) Bağlaç
- C) Ünlem
- D) Edat

12. Aşağıdaki cümlelerin hangisinde altı çizili sözcüğün görevi diğerlerinden farklıdır?

- A) Salona girmemiz için izin verildi.
- B) Halit ile Saffet toplantıdan çıktılar.
- C) Olanlara senin kadar ben de üzüldüm.
- D) Senin gibi güzel hiç görmedim.

13. Aşağıdaki cümlelerden hangisinin sonuna ünlem (!) işareti getirilemez?

- A) Eyvah, yangın var
- B) Aa, bak kim geldi
- C) Off, bunları kim yapacak
- D) Eski günleri yâd ettik

14. Aşağıdaki cümlelerin hangisinde deyim yoktur?

- A) Duvarın dibine kendimi attım.
- B) Müdür Bey, çalıyı tepeden sürür.
- C) “Gel!” diye diye dilimizde tüy bitti.
- D) Bütün köy yaylalara taşınıyordu.

1. OTURUM

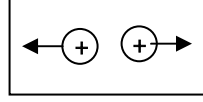
15. Oğlum,
Bağlara alaca düştü. Yakında iri, kara üzümler erer. Konu komşu bağlara, çardağa taşınıyor. Baban, bir haftadır evde yok. Menemen'e çalışmaya gitti. Bağlara domuz dadanmış. Eniştene söyledim. "Sizin bağa da bakarım." dedi, ama ona güvencim yok.

Bu parça aşağıdaki anlatım türlerinin hangisinden alınmıştır?

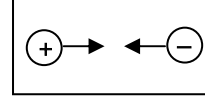
- A) Deneme B) Makale
C) Mektup D) Anı
16. İş, oluş, hareket bildiren sözcüklere ne denir?
A) İsim B) Fiil C) Edat D) Bağlaç
17. Aşağıdaki çekimlenmiş fiillerden hangisinin şahsı, 3. çoğul kişidir?
A) Getiriyorsun B) Oynuyorlar
C) Geçıştirdik D) Kaldıracağım
18. Aşağıdaki cümlelerin hangisinde fiil, duyulan geçmiş zamanda çekimlenmiştir?
A) Birdenbire evini özlemiş.
B) Sonbaharda yapraklar sararır.
C) Ateş olmayan yerden duman çıkmaz.
D) Sesler, gülüşmeler içinde gidiyoruz.
19. "Okur-yazar" kalabalığındandı. Mahalle mektebinden diplomasını aldıktan sonra eline kitap almamıştı. Bütün semt halkınca dünyanın en birinci âlimi sayılırdı. Beyaz top sakalıyla, kısa boyuyla, şişman vücuduyla en beklenilmez yerlerden yuvarlanır gibi dolaştığı görülürdü. Kitap gibi gazete de okumazdı. Metelik tuzağı dediği bu kâğıt parçalarının yalanla dolu olduğunu savunurdu.
Bu parça aşağıdaki anlatım türlerinin hangisinden alınmıştır?
A) Makale B) Deneme
C) Fabl D) Hikâye
20. Aşağıdaki cümlelerin hangisinde virgülün kaldırılması anlamın değişmesine neden olur?
A) Çocuk, misafir gelince ders çalışmadı.
B) Çanta, çok hafif gibi görünüyordu.
C) Babam, kahvaltı yapmadan evden çıktı.
D) Ahmet, senin de geleceğini söyledi.

FEN BİLGİSİ - 6

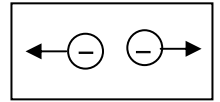
1.



Şekil - I



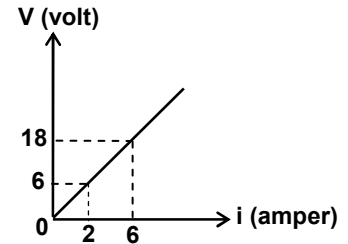
Şekil - II



Şekil - III

Şekil - I, II ve III'teki yükler arası etkileşim hangisinde doğru olarak verilmiştir?

- | Şekil - I | Şekil - II | Şekil - III |
|-----------|------------|-------------|
| A) İtme | Çekme | Çekme |
| B) Çekme | İtme | Çekme |
| C) Çekme | İtme | İtme |
| D) İtme | Çekme | İtme |
2. Aşağıdakilerden hangisi yalıtkan madde değildir?
A) Plastik B) Demir C) Cam D) Tahta
3. Aşağıdakilerden hangileri atmosferde meydana gelen doğal elektriklenmelerdendir?
I- Şimşek
II- Yıldırım
III- Elektroskop
A) Yalnız I B) Yalnız III
C) I - II D) II - III
4. Aşağıdakilerden hangisi elektrik enerjisini ısı enerjisine dönüştüren bir alettir?
A) Ütü B) Vantilatör
C) Buzdolabı D) Elektrikli süpürge
5. V - i grafiği verilen elektrik devresinin direnci kaç Ω 'dur?
A) 18 B) 6 C) 3 D) 2

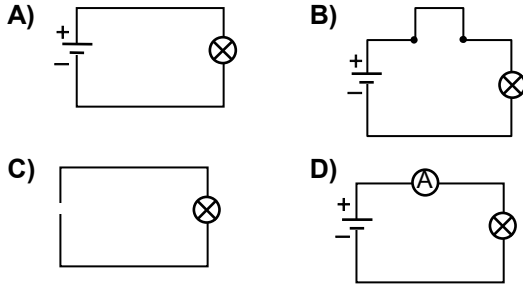


1. OTURUM

7. Hangisindeki devre elemanının sembolü yanlış verilmiştir?

Devre elemanı	Sembolü
A) Açık anahtar	
B) Pil	
C) Direnç	
D) Sigorta	

8. Hangi devredeki ampul ışık vermez?



9. Aşağıdakilerden hangisi Galaksiler (Gök Adalar) in yapılarına göre adlandırımı değildir?

- | | |
|-------------|-------------|
| A) Eliptik | B) Sarmal |
| C) Düzensiz | D) Doğrusal |

10. Yıldızların gaz bulutu olarak doğuşlarına verilen ad hangisidir?

- | | |
|---------------|----------------|
| A) Beyaz cüce | B) Kırmızı dev |
| C) Nebula | D) Süpernova |

11. Hangisi bir dış gezegen değildir?

- | | |
|------------|-----------|
| A) Mars | B) Merkür |
| C) Jüpiter | D) Neptün |

12. Aşağıdakilerden hangisi Ay'ın Dünya çevresinde dönmesi sonucu meydana gelir?

- | | |
|-------------------|-------------------|
| A) Güneş lekeleri | B) Mevsimler |
| C) Gece ve gündüz | D) Ay'ın evreleri |

13. Bitkilerde özümleme, iletim, depolama gibi görevleri olan doku hangisidir?

- | | |
|------------------|---------------------|
| A) Koruyucu doku | B) Parankima dokusu |
| C) Destek doku | D) Salgı dokusu |

14. Aşağıdakilerden hangisi kaktüs ve meşe bitkisinin gövdelerinin ortak özelliğidir?

- A) Su ve besin depo etme
B) Odunsu yapıda olma
C) Madde iletimini sağlama
D) Yeşil renkli olma

15. Aşağıdakilerden hangisi eğrelti otunun özelliklerinden değildir?

- A) Fotosentez yapma
B) Tozlaşmayla çoğalma
C) Toprakta su alma
D) Nemli yerde yaşama

16. Bir besin zincirini oluşturan aşağıdaki canlılardan hangisi ayrıştırıcılar grubunda yer alır?

- | | |
|-----------|---------------|
| A) Mantar | B) Salyangoz |
| C) Bitki | D) Ardiç kuşu |

17. Aşağıdakilerden hangisi iskeletin görevlerinden değildir?

- A) Kan yapımına yardımcı olmak
B) Vücudun dik durmasını sağlamak
C) İç organları dış etkilere korumak
D) Vücuda besin ve enerji sağlamak

18. Sindirim sisteminde gerçekleşen aşağıdaki olaylardan hangisi kalın bağırsakta gerçekleşir?

- A) Yağların kimyasal sindiriminin başlaması
B) Glikoz ve aminoasitin kana geçmesi
C) B ve K vitaminlerinin sentezlenmesi
D) Proteinlerin sindiriminin başlaması

19. Küçük dolaşımda kan, akciğer toplardamarı ile kalbin hangi bölümüne gelir?

- | | |
|-----------------|-----------------|
| A) Sağ kulakçık | B) Sol karıncık |
| C) Sağ karıncık | D) Sol kulakçık |

20. Addison hastalığı hangi hormonun az salgılanması sonucu ortaya çıkar?

- | | |
|-------------|---------------|
| A) Kortizol | B) Tiroid |
| C) İnsülin | D) Kalsitonin |

1. OTURUM

SOSYAL BİLGİLER - 6

1. Selçukluların Bizans'a karşı kazandıkları ilk önemli zafer, aşağıdakilerden hangisidir?

A) Köseadağ B) Malazgirt
C) Miryakefalon D) Pasinler

2. Anadolu Selçuklu Devleti'nin kurucusu Süleyman Şah'ı gönderdiği fermanla tanıyan ve ona "hükümdarlık" unvanı veren Büyük Selçuklu hükümdarı, aşağıdakilerden hangisidir?

A) Melikşah B) Alp Arslan
C) Tuğrul Bey D) Mehmet Tapar

3. Aşağıdakilerden hangisi I. Alâeddin Keykubat Dönemi olaylarından biridir?

A) Bizans'a karşı Miryakefalon Savaşı'nın kazanılması
B) Malatya'nın Danişmentlilerden alınması
C) Alanya ve Suğdak'ın alınması
D) Anadolu'nun Moğol baskısı altına girmesi

4. 1277 yılında Türkçeyi resmî dil ilan eden Türk devlet adamı, aşağıdakilerden hangisidir?

A) I. Alâeddin Keykubat
B) Karamanoğlu Mehmet Bey
C) Menteşe Bey
D) Kara Yülük Osman Bey

5. Aşağıda verilen bilgilerden hangisi Timur Devleti'yle ilgili değildir?

A) Devletin kurucusu Babür Şah'tır.
B) Devletin başkenti Semerkant'tır.
C) Osmanlı Devleti ile savaşmışlardır.
D) Dönemin ünlü şairi Ali Şir Nevaî'dir.

6. Ay, Güneş, Yıldızlar gibi gök cisimlerini incelemek amacıyla yapılan ve içinde teleskop vb. aletlerin bulunduğu gözlemevine verilen isim, aşağıdakilerden hangisidir?

A) Tersane B) Rasathane
C) Külliye D) Kütüphane

7. Ertuğrul Bey yönetiminde Söğüt ve Domaniç'e yerleşen Oğuz boyu, aşağıdakilerden hangisidir?

A) Kınık B) Dodurga
C) Bayındır D) Kayı

8. Bizans tekfurlarına karşı 1302 yılında Koyunhisar Savaşı'nı kazanan Osmanlı hükümdarı, aşağıdakilerden hangisidir?

A) Ertuğrul Gazi B) I. Murat
C) Osman Bey D) Orhan Bey

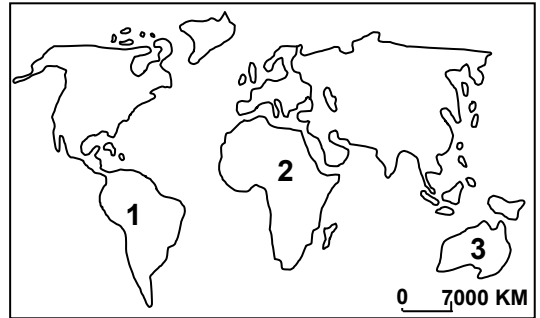
9. Aşağıdakilerden hangisi Ankara Savaşı'nın sonuçlarından biri değildir?

A) İstanbul'un alınmasının gecikmesi
B) Türklerin Rumeli'deki ilerleyişinin durması
C) Türklerin Rumeli'ye kesin olarak yerleşmesi
D) Osmanlı Devleti'nin dağılma tehlikesi ile karşı karşıya kalması

10. Aşağıdakilerden hangisi dünyanın hareketleri ve sonuçları için söylenemez?

A) Dünya eksenini etrafında batıdan doğuya doğru döner
B) Dünyanın her yerinde 21 Mart ve 23 Eylülde gece gündüz süreleri eşitlenir.
C) Kendi eksenini etrafındaki dönüşünü 365 gün 6 saatte tamamlar.
D) Güneş etrafındaki hareketi sonucunda mevsimler oluşur.

- 11.



Yukarıdaki dünya haritasında numaralandırılarak verilen kıtalar hangi seçenekte doğru sıralanmıştır?

1	2	3
A) G. Amerika	Asya	Okyanusya
B) G. Amerika	Afrika	Okyanusya
C) K. Amerika	Avrupa	Antarktika
D) Asya	Avrupa	Afrika

12. Aşağıdakilerden hangisi Türkiye'de iç göçlere neden olan doğal afetlerden değildir?

A) Deprem B) Sel
C) Tsunami D) Kuraklık

13. Aşağıdaki tarım bitkilerinden hangisi yurdu muzun tüm coğrafi bölgelerinde yetiştirilir?

A) Çay B) Muz
C) Turunçgiller D) Şekerpancarı

1. OTURUM

14. Alüminyum üretiminde kullanılan ve en önemli rezervi Seydişehir’de bulunan maden aşağıdakilerden hangisidir?

- A) Boraks B) Boksit C) Krom D) Kükürt

15. Yurdumuzun orman bakımından en zengin bölgesi aşağıdakilerden hangisidir?

- A) Ege Bölgesi B) Marmara Bölgesi
C) Akdeniz Bölgesi D) Karadeniz Bölgesi

16. Aşağıdakilerden hangisi bulaşıcı hastalıklar arasında yer almaz?

- A) Kanser B) Boğmaca
C) Dizanteri D) Kolera

17. Aşağıdakilerden hangisi demokrasinin temel ilkelerinden değildir?

- A) Millî egemenlik B) Özel mülkiyet
C) Hürriyet ve eşitlik D) Siyasi partiler

18. Aşağıdakilerden hangisi demokrasinin korunmasında bireylere düşen görevlerden biri değildir?

- A) Başkalarının haklarına saygılı olmak
B) Farklı düşünceleri hoşgörüyle karşılamak
C) Seçimlere katılmak
D) Yasaları herkese eşit şekilde uygulamak

19. • İnsanların ihtiyaçlarını tek başlarına karşılayamaması
• İnsanların geçimlerini sağlayacak gelirin kazanılması
• Bir işle uğraşmanın insana mutluluk ve huzur vermesi

Verilenlerin tümü aşağıdakilerden hangisini oluşturan nedenlerdendir?

- A) Meslekleri
B) Kamuoyunu
C) Devleti
D) Sivil toplum örgütlerini

20. I- Vatan
II- Millet
III- Egemenlik

Yukarıdakilerden hangisi veya hangileri devleti meydana getiren öğelerdendir?

- A) Yalnız I B) Yalnız III
C) I – II D) I – II – III

GÜZEL KONUŞMA ve YAZMA - 6

1. Aşağıdaki cümlelerin hangisinde özne-yüklem uygunluğu yoktur?

- A) Gökyüzünde, beyaz bir güvercin uçuyorlar.
B) Onlar, bizim atölyede çalışıyor.
C) Küçük çocuk, ağacın altında oynuyordu.
D) Ferit, şimdi hiçbir şey duymuyordu.

2. Aşağıdakilerin hangisinde “bulunma” anlamı vardır?

- A) Kâğıdı B) Çantada
C) Kutudan D) Avluya

3. Aşağıdaki cümlelerin hangisinde ad durum eki yanlış kullanılmıştır?

- A) Yarın sabah yola çıkacağız.
B) Dün konuşurken senden söz açıldı.
C) Ancak sabaha karşı şehri vardılar.
D) Birçok askerin geldiğini gördüler.

4. Aşağıdaki cümlelerin hangisinde sözcüğün yanlış yerde kullanılmasından kaynaklanan bir anlatım bozukluğu vardır?

- A) Pastalar çok fırında kaldığı için yanmış.
B) Son günlerde kendini hayır işlerine verdi.
C) Yol boyunca ağaçlıklar gördük.
D) Son durum hakkında bize bilgi verdi.

5. “Ayşe, kardeşi ile bugün uçağa biniyor.” cümlesinde vurgu hangi sözcük üzerindedir?

- A) Ayşe B) Kardeşi C) Uçağa D) Biniyor

6. Aşağıdaki cümlelerin hangisinde sözcüğün yanlış anlamda kullanılması söz konusudur?

- A) Bir yolunu bulur bulmaz buradan çıkarız.
B) Yapılacak yolculuk çok tehlikeliydi.
C) Para harcamasını seven cimri biriydi.
D) Demir kapıyı bin bir güçlkle örttüler.

7. Evden çıktılar. Ürkek, heyecanlı taya, İbrahim bindi. Yola düştüler. Dağ yollarında sürekli aşağıya kayıyorlardı, konuşmuyorlardı. Dünya alaca aydınlık oldu. İbrahim, taydan indi; oğlunu bindirdi. Tayın ayak seslerinden ötede çıt yoktu.

Bu parça aşağıdaki paragraf türlerinden hangisine örnektir?

- A) Açıklama B) Olay
C) Karşılaştırma D) Örnekleme

1. OTURUM

8. Görmek, organlarımızdan birinin doğal bir işidir. Nefes almayı nasıl öğrenmiyorsak, görmeyi de öğrenmek zorunda değiliz. Bakmak ise görüşümüzün eğitimiyle olur. Gayet sade, normal olan bu eğitim, çok defa önem verilmediği için yapılmıyor ve insanların çoğu bakmayı bilmiyor. Bu parçanın başlığı aşağıdakilerden hangisidir?
- A) Nefes Almak
B) Eğitim ve Öğretim
C) Eğitimi Önemsemek
D) Bakmak ve Görmek
9. Yoğunlaştırılmış duyguların anlatıldığı, dilin en güzel biçimde kullanıldığı, imgelere, benzetmelere yer verilen manzum yazı türüne ne ad verilir?
- A) Roman B) Şiir C) Hikâye D) Masal
10. Ben giderim adım kalır,
Dostlar beni hatırlasın.
Düğün olur bayram gelir,
Dostlar beni hatırlasın.
Âşık Veysel
- Bu dördlükte kullanılan ölçü aşağıdakilerden hangisidir?
- A) Hece B) Serbest C) Aruz D) Dize
11. Ayın şavkı vurur sazım üstüne,
Söz söyleyen yoktur sözüm üstüne
Gel ey hilal kaşım, dizim üstüne,
Ay bir yandan, sen bir yandan sar beni.
Sabahattin Ali
- Bu dördlüğün uyağı aşağıdakilerden hangisidir?
- A) üstüne B) z C) üm D) ne
12. Temiz yürekli, uysal çocukluğum...
Ah, ümit dolu gençliğim,
İlk şiirim, ilk arkadaşım, ilk sevgilim...
Arıyorum aklımda bir ninni bestesini...
Böyle uzaklaşmayın benden, yaşadığım günler
Ziya Osman Saba
- Bu parçanın teması aşağıdakilerden hangisidir?
- A) Özlem B) Mutluluk
C) Ümit D) Kararsızlık
13. Ne yardan geçilir, ne serden
Korkuyorum bu gecelerden.
Bel bağladığım tepelerden
Gün doğmayabilir bir daha.
Cahit Sıtkı Tarancı
- Bu dördlüğün konusu aşağıdakilerden hangisidir?
- A) Sevgiliye duyulan özlem
B) Karanlığa duyulan öfke
C) Ölüm korkusu
D) Tabiat güzellikleri
14. Bir konuşmaya “Güzeldi.” diyebilmemiz için aşağıdakilerden hangisine gerek yoktur?
- A) Ne hakkında konuşulacağının saptanmasına
B) Konuşmaya nasıl başlanacağının belirlenmesine
C) Düşüncenin hangi örneklerle açıklanacağına
D) Konuşma yapılacak yerin önceden görülmesine
15. Aşağıdakilerden hangisi konuşmada dikkat edilecek hususlardan biri değildir?
- A) Olumlu ve yapıcı olmalı, alaycı ve kırıncı bir dil kullanmamalıyız.
B) Düşüncelerimizi etkili ve güzel bir şekilde ifade etmeliyiz.
C) Gerekirse dinleyicileri eleştirir tarzda konuşabilmeliyiz.
D) Dinleyicilere düşüncelerinin önemli olduğunu sezdirmeliyiz.
16. Sana bu mektubu yazıp yazmamaya karar veremedim önceleri. Sonra “Düşüncelerimi bilmek senin de hakkın.” diye düşündüm. Seninle yaşadıklarımızdan sonra kızgın ayrılmaya gönlüm el vermedi.
- Bu parça mektubun hangi bölümünden alınmıştır?
- A) Seslenme B) Giriş
C) Gelişme D) Sonuç
17. Aşağıdakilerden hangisi “mektup”un bölümlerinden biri değildir?
- A) Serim B) Giriş
C) Gelişme D) Sonuç
18. Canım Kardeşim,
Bayramını kutlar, daha nice güzel bayramlar dilerim.
- Bu parça aşağıdakilerin hangisine örnektir?
- A) Dilekçe B) İş mektubu
C) Davetiye D) Kutlama kartı

1. OTURUM

19. Aşağıdakilerin hangisi telgrafta dikkat edilecek hususlardan biri değildir?

- A) İstekler kısa ve özlü anlatılmalıdır.
- B) Alıcının adresi yazılmalıdır.
- C) Telgrafın türü belirtilmelidir.
- D) Gelişme bölümünde örneklere yer verilmelidir.

20. Aşağıdakilerden hangisi telefon kullanırken uyulması gereken kurallardan biri değildir?

- A) Selam vermeli ve kendimizi tanıtmalıyız.
- B) Konuşma bitince iyi dileklerde bulunmalıyız.
- C) Aradığımız kişinin telefonu kapatmasını beklemeliyiz.
- D) Saygılı ve kibar konuşmalıyız.

TURİZM - 6

1. Aşağıdakilerden hangisi turizmin sosyal önemini ifade eder?

- A) Ülkeler arasında dostlukları geliştirmesi
- B) Ülke ekonomisini güçlendirmesi
- C) İstihdam alanlarını artırması
- D) Ticari hayata canlılık kazandırması

2. Turizmin özellikleri arasında aşağıdakilerden hangisi yer almaz?

- A) İnsanlar kendi istekleriyle turizm faaliyetlerine katılırlar.
- B) İnsanların başka yerlere göç etmelerini gerektirir.
- C) İnsanlar arasında kültür etkileşimi sağlar.
- D) Boş zamanları değerlendirme etkinliklerini kapsar.

3. Aşağıdaki örneklerden hangisi iç turizm etkinliği kapsamında?

- A) Adapazarı'nda yaşayan ailenin günübirlik piknik yapmaları
- B) Ankara'da yaşayan kişinin İsviçre'ye futbol izlemek üzere gitmesi
- C) İstanbul'da yaşayan ailenin iki günlük Kapadokya seyahati yapması
- D) Alman vatandaşlarının Alanya'ya tatile gelmeleri

4. Pasif dış turizmin olumsuz yönü aşağıdakilerden hangisidir?

- A) Ülke dışına seyahati gerektirmesi
- B) Döviz kaybına neden olması
- C) İnsanlar arasında dostlukları güçlendirmesi
- D) Yenilikleri tanıma fırsatı sağlaması

5. Aşağıdakilerden hangisi insanları turizm faaliyetlerine yönlendiren nedenlerden değildir?

- A) İş bulma ve çalışma
- B) Kültür ve eğitim
- C) Dinlenme ve eğlenme
- D) Toplantılara katılma

6. İnsanları daha çok yazın deniz kıyılarında turizm etkinliğine yöneltten etken aşağıdakilerden hangisidir?

- A) Merak
- B) Kültür ve eğitim
- C) İnanç
- D) Dinlenme ve eğlenme

7. Aşağıdakilerden hangisi turizm değerlerimizden olan el sanatlarından biridir?

- A) Terzilik
- B) Berberlik
- C) Kilimcilik
- D) Fırıncılık

8. Aşağıdakilerden hangisi doğal turistik değerlerimizden değildir?

- A) Damlatas Mağarası
- B) Manavgat Şelalesi
- C) Abant Gölü
- D) Topkapı Sarayı

9. Ülkemizin doğal turizm değerlerinden olan Tortum Çağlayanı hangi ilimizdedir?

- A) Antalya
- B) Erzurum
- C) Mersin
- D) Trabzon

10. Sağlık turizm merkezlerimizden biri olan Gazlıgöl Kaplıcaları hangi ilimizde bulunmaktadır?

- A) Afyon
- B) Bursa
- C) Amasya
- D) Balıkesir

11. Aşağıdakilerden hangisi doğa harikası niteliğinde olan doğal turizm değerlerimizdendir?

- A) Yedigöller
- B) Uludağ
- C) Peri bacaları
- D) Millî parklar

12. Doğal güzelliklerin ve tarihi değerlerin yok olmasını engellemek amacıyla koruma altına alınan bölgelere ne ad verilir?

- A) Anıt
- B) Müze
- C) Doğa harikası
- D) Millî park

13. Her yıl çok sayıda yerli ve yabancı turistini ziyaret ettiği, önemli tarihi turizm değerlerimizden olan Sultan Ahmet Camii hangi ilimizdedir?

- A) Konya
- B) Sivas
- C) Bursa
- D) İstanbul

1. OTURUM

TÜRKÇE - 8

14. Aşağıdaki müzelerimizden hangisi devrim müzesi özelliğindedir?
- A) T.B.M.M Müzesi
B) Resim ve Heykel Müzesi
C) İstanbul Arkeoloji Müzesi
D) Mevlana Müzesi
15. Aşağıdaki millî bayramlarımızın hangisinde turizmin gelişmesini sağlayan uluslararası şenlik yapılmaktadır?
- A) Zafer Bayramı
B) Cumhuriyet Bayramı
C) Ulusal Egemenlik ve Çocuk Bayramı
D) Atatürk'ü Anma Gençlik ve Spor Bayramı
16. Sanat eserlerini ya da herhangi bir ürünü tanıtmak ve satışını yapmak amacıyla düzenlenen etkinliğe ne denir?
- A) Fuar
B) Sergi
C) Festival
D) Şenlik
17. Turizmin tanıtımında yararlanılan, herhangi bir düşünceyi yazı, resim, söz gibi değişik araçlarla yayma çalışmalarına ne denir?
- A) Reklam
B) Tanıtım
C) Propaganda
D) Broşür
18. Aşağıdakilerden hangisi hava yolu taşımacılığının turizm açısından diğer ulaşım yollarına göre avantajlarından?
- A) Şehir içi ve şehirler arası turların yapılmasını sağlar.
B) İstenilen yerde durma, konaklama ve çevreyi görme olanağı sağlar.
C) Kötü hava koşullarından etkilenmemesi rahat ve güvenli ulaşım sağlar.
D) Hızlı bir ulaşım yolu olması nedeniyle büyük zaman tasarrufu sağlar.
19. Karayolu ulaştırıcılığının olumsuz yönü aşağıdakilerden hangisidir?
- A) Gününbirlik gezilere olanak tanır.
B) Doğa koşullarından çok etkilenir.
C) Seyahat esnasında çevreyi görme olanağını sağlar.
D) Turlarda samimi ve eğlenceli ortam oluşmasını sağlar.
20. Aşağıdaki havaalanlarımızdan hangisi, öncelikle turizm amaçlı yapılmıştır?
- A) Muğla Dalaman Havaalanı
B) Ankara Esenboğa Havaalanı
C) İstanbul Atatürk Havaalanı
D) Trabzon Havaalanı

1. Aşağıdakilerin hangisinde altı çizili kelime gerçek anlamda kullanılmıştır?

A) Misafirlerine çok sıcak davrandılar.
B) Bugün ayaklarım çok ağrıyor.
C) Kardeşin tatlı sözlerle beni ikna etti.
D) Aydınlık bir yüzü vardı.

2. Aşağıdaki cümlelerin hangisinde atı çizili kelime yapım eki almamıştır?

A) Herkesten önce eve vardı.
B) Bu güzel koku her yeri sardı.
C) Bana çok kızgın bakıyordu.
D) Yeni bir yata aldılar.

3. Şahinim var, bazlarım var,
Tel alışkın sazlarım var,
Yâre gizli sözlerim var,
Diyemiyom ele karşı.

Karacaoğlan

Bu dörtlükte aşağıdaki kafiye çeşitlerinden hangisi kullanılmıştır?

A) Tam B) Zengin C) Yarım D) Cinaslı

4. Aşağıdaki cümlelerin hangisinde altı çizili eylemin çatısı öznesine göre dönüşlüdür?

A) Zavallı kadın saatlerce ağladı.
B) Sirkeyi, sarımsağı düşünen paçayı icemez.
C) Onlar, diğer daireye mecburen taşındılar.
D) İki araç dün kavşakta çarpışmış.

5. Aşağıdakilerin hangisinde altı çizili eylem "hikâye birleşik zamanı"na göre çekimlenmiştir?

A) Arkadaşlarla yeni çıkan romanlar hakkında konuşmuştuk.
B) Dayım keşke dün gelseymiş.
C) Müsait olduğunda çok kitap okurmuş.
D) Bu açıdan bakarsanız olayı farklı yorumlarsınız.

6. Evlerinin önü bakla
Güvercinler döner takla,
Al beni yanında sakla.

Bu dizelerde kullanılan uyak çeşidi aşağıdakilerden hangisidir?

A) Tam B) Zengin
C) Yarım D) Cinaslı

1. OTURUM

7. Aşağıdaki cümlelerin hangisinde zıt (karşıt) anlamlı kelimeler bir arada kullanılmıştır?
- A) Siyah beyaz fotoğrafları diğerlerinden ayırdık.
B) Çoraplarını giyinmeden evden çıktı.
C) Doktor olmayı çok istiyordu.
D) Annesine güzel bir hediye aldı.
8. Bence bu başarının iki nedeni olabilir () Birincisi azim () ikincisi çok çalışmaktır () Bu cümlede sırasıyla hangi noktalama işaretleri kullanılmalıdır?
- A) (:) (,) (,) B) (.) (,) (,) C) (:) (,) (,) D) (:) (;) (,)
9. Aşağıdaki cümlelerin hangisinde ikileme kullanılmamıştır?
- A) Minnoş'un kara kara gözleri vardı.
B) Uzunlu kısıklı kalemelerini kutuya doldurdu.
C) Eğri büğrü yollarda yavaşça yol alıyorduk.
D) Sapasağlam bir ipe kutuyu bağladı.
10. Aşağıdaki cümlelerin hangisinde zarf tümleci yoktur?
- A) Okula ara sıra giderdi.
B) Kocaman gözleri ve ayakları vardı.
C) Şampiyon olmak için çok çalıştı.
D) Yukarıda bulamayınca aşağıya indi.
11. Aşağıdakilerden hangisinde birleşik fiil yoktur?
- A) Uzun uzun arkasından bakmıştım.
B) Bu işi benden daha iyi yapabilir.
C) Paketi taşımama yardım etti.
D) Onu görünce birden kalakalmıştım.
12. Aşağıdakilerden hangisinde pekiştirme yoktur?
- A) Sapsarı çiçekler almıştı eşine.
B) Ufak tefek bir çocuktü.
C) Her zaman tertemiz giyinirdi.
D) Masmavi gökyüzüne uzun uzun baktı.
13. Aşağıdaki cümlelerin hangisinde altı çizili kelime bağ eylemdir?
- A) Seninle akşamları yürüyüşe çıkardık.
B) Tanıdık bir yüz çıkmadı karşımıza.
C) O kıymetli eller büyüttü beni.
D) Dikkatli dikkatli bakarak konuşuyorlardı.
14. Aşağıdaki kelimelerden hangisi birden fazla yapım eki almıştır?
- A) Akıllı B) Sütçüler
C) Türkçe D) Sessizlik
15. Aşağıdakilerden hangisi kurallı bir cümle değildir?
- A) Doğa acımasızca yok ediliyor.
B) Böyle düşünenler de çıkabilir.
C) Kitaptır en gerçek dostumuz.
D) Çocuk, atın arkasından koşuyordu.
16. Aşağıdakilerden hangisi anlamca olumlu bir cümledir?
- A) Akşam yemeği için masaya oturdular.
B) Erhan sofraya otururken ellerini yıkamamıştı.
C) Fasulyeden ve pilavdan hiç yemedi.
D) Yemeklerin çoğunu beğenmemişti.
17. Hem hüzünlü hem de gülünç olayları sergileyen tiyatro oyunlarına ne ad verilir?
- A) Trajedi B) Dram
C) Komedi D) Dekor
18. Aşağıdaki kelimelerden hangisi hem büyük hem de küçük ünlü uyumuna uymaktadır?
- A) Irgat B) Bakıyor
C) Kalem D) İsraf
19. Aşağıdakilerden hangisinin yüklemi, öznesine göre dönüşlü çatılı bir fiil değildir?
- A) En çok sevdiği kıyafeti giyindi.
B) Aylar sonra ilk defa yıkandı.
C) Ayşe, saatlerce saçını süsledi.
D) Sınavı kazanınca çok sevindi.
20. Aşağıdaki cümlelerin hangisinin yüklemi ek fiil almamıştır?
- A) İşte tüm bunları yapan oydu.
B) Bu okulun öğrencisi değilmiş.
C) Herkes için çok iyi bir arkadaştı.
D) Sabahları erken kalkmayı seviyorum.

1. OTURUM

FEN BİLGİSİ - 8

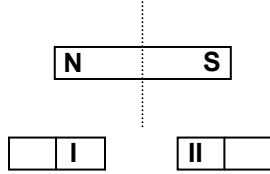
1. Aşağıdaki ifadelerden hangileri doğrudur?

- I- Protonlar (+) yüklü taneciklerdir.
- II- Elektronlar (-) yüklü taneciklerdir.
- III- Nötronlar (-) yüklü taneciklerdir.

- A) Yalnız I
- B) Yalnız III
- C) I – II
- D) II – III

2. Şekildeki çubuk mıknatıs

kesikli çizgi boyunca bölünerek iki küçük mıknatıs elde ediliyor. Bu mıknatıslar üzerinde I ve II ile gösterilen kutuplar hangisinde doğru olarak verilmiştir?



- | | I | II |
|----|---|----|
| A) | N | N |
| B) | N | S |
| C) | S | S |
| D) | S | N |

3. Aşağıdakilerden hangisi doğru akım jeneratörünün adıdır?

- A) Pil
- B) Dinamo
- C) Transformatör
- D) Stator

4. Elektrik aletlerinin gücü tabloda verilmiştir. Bu aletlerin 1 saatte tükettiği enerji miktarlarının sıralanışı hangisinde doğru olarak verilmiştir?

Araç	Güç (W)
Lamba	100
Fön makinesi	140
Bulaşık makinesi	1000

- A) Bulaşık makinesi > Fön makinesi > Lamba
- B) Lamba > Fön makinesi > Bulaşık makinesi
- C) Fön makinesi > Bulaşık makinesi > Lamba
- D) Bulaşık makinesi > Lamba > Fön makinesi

5. Aşağıdakilerden hangisi “yükseltici transformatör” olarak adlandırılır?

- A) Primer sarım sayısı > Sekonder sarım sayısı
- B) Primer sarım sayısı < Sekonder sarım sayısı
- C) Primer gerilim < Sekonder gerilim
- D) Primer gerilim = Sekonder gerilim

6. Çizelgede iyon yükü verilen hangi atomlar arasında kovalent bağ oluşur?

Atom	İyon yükü
X	- 1
Y	+ 1
Z	+ 2
T	- 2

- A) X – Y
- B) Y – T
- C) X – T
- D) Z – T

7. Aşağıdakilerden hangisi fiziksel değişmeye örnektir?

- I- Suyun donması
- II- Naftalinin süblimleşmesi
- III- Ekmeğin küflenmesi

- A) I – II
- B) II – III
- C) I – III
- D) I – II – III

8. “Kimyasal tepkimelerde, tepkimeye giren madde miktarı ile tepkime sonucu oluşan madde miktarı birbirine eşittir.” ifadesine göre aşağıdakilerden hangisi söylenebilir?

- A) Tepkime endotermiktir.
- B) Tepkime ekzotermiktir.
- C) Madde miktarı korunmuştur.
- D) Madde değişime uğramıştır.

9. Aşağıdakilerden hangisi ekzotermik tepkimeye örnektir?

- A) Suyun elektrolizi
- B) Kömürün yanması
- C) Camın kırılması
- D) Suyun buharlaşması

10. Aşağıdakilerden hangisinin sulu çözeltisi asit özelliği gösterir?

- A) NH₃
- B) NaCl
- C) NaOH
- D) HNO₃

11. Aşağıdakilerden hangisi proteinlerin özelliklerindendir?

- A) Vücuda enerji verir.
- B) Yapı birimi glikozdur.
- C) Sadece bitkilerden elde edilir.
- D) Parçalanmadan hücre zarından geçer.

12. Aşağıdakilerden hangilerinde oksijensiz solunum görülür?

- I- Maya hücresi
- II- Embriyo
- III- Kanser hücresi

- A) Yalnız I
- B) I – II
- C) II – III
- D) I – II – III

1. OTURUM

13. Aşağıdakilerden hangisi vitaminlerin özelliklerindendir?

- A) Enerji verici besinler grubunda yer alma
- B) Parçalanmadan hücre zarından geçebilme
- C) Sadece tahıllardan elde edilme
- D) Sadece süt ürünlerinden elde edilme

14. Aşağıdakilerden hangisi DNA molekülünde bulunmaz?

- A) 5 karbonlu şeker
- B) Organik baz
- C) Fosfat grubu
- D) Yağ

15. Aşağıdakilerden hangisi oğul döller resesif olarak geçen anormal karakterlerdendir?

- A) Katarakt
- B) Erken saç dökülmesi
- C) Cücelik
- D) Gece körlüğü

16. Aşağıdaki bilgiler için ne söylenebilir?

- I- Mutasyonlar, gen yapısında, kromozom sayısında ve yapısında meydana gelen değişmelerle ortaya çıkarlar.
- II- Üreme hücrelerinde görülen mutasyonlar dölden dölle aktarılır.

- A) Yalnız I doğru
- B) Yalnız II doğru
- C) Her ikisi de doğru
- D) Her ikisi de yanlış

17. Aşağıdakilerden hangisi mayoz bölünmenin özelliklerindendir?

- A) Birbirini takip eden iki bölünmeden oluşması
- B) Vücut hücrelerinde görülmesi
- C) Kromozom sayısının sabit kalması
- D) İki yavru hücre oluşması

18. Eşeysiz üreme şekillerinden hangisinde yeni oluşan canlı, ana canlı üzerinde ya da tek başına yaşayabilir?

- A) Bölünme
- B) Tomurcuklanma
- C) Sporlanma
- D) Rejenerasyon

19. İnsandaki üreme ve vücut hücrelerinin kromozom sayısı aşağıdakilerin hangisinde verilmiştir?

	Üreme Hücresi	Vücut Hücresi
A)	n	n
B)	n	2n
C)	2n	n
D)	2n	2n

20. Anne ve babanın aşağıdaki davranışlarından hangisi çocuğu olumlu yönde etkiler?

- A) Özgüven geliştirici yaklaşım
- B) Aşırı hoşgörölü yaklaşım
- C) Egemen olma isteği
- D) Sürekli başarı bekleme

VATANDAŞLIK ve İNSAN HAKLARI - 8

1. • Halkın, halk tarafından yönetimi.
• Toplumı ilgilendiren herhangi bir sorun üzerinde halkın benimsediği genel düşünce, ortak kanaat.

Verilen tanımları ifade eden kavramlar hangisinde birlikte verilmiştir?

- A) Kamuoyu – Devlet
- B) Sivil Toplum – Demokrasi
- C) Sivil toplum – Devlet
- D) Demokrasi – Kamuoyu

2. T.C. Devletinde vali ataması için hangi bakanın önerisi gerekmektedir?

- A) Maliye Bakanının
- B) Adalet Bakanının
- C) İçişleri Bakanının
- D) Millî Savunma Bakanının

3. Ülkemizde serbest bölgelerin kuruluş amacı aşağıdakilerden hangisidir?

- A) Ticareti geliştirmek
- B) Ülke savunmasını güçlendirmek
- C) İnsan haklarını korumak
- D) Çevreyi güzelleştirmek

4. Aşağıdakilerden hangisi siyasal haklardandır?

- A) Kamu hizmetine girme hakkı
- B) Eğitim ve öğretim hakkı
- C) Mülkiyet ve miras hakkı
- D) Sosyal güvenlik hakkı

5. Gelin tanış olalım

- İşi kolay kılalım
- Sevelim sevillelim
- Dünya kimseye kalmaz

Yunus Emre'nin bu dördünlüğünde hangisinin önemi vurgulanmaktadır?

- A) Çevre bilincinin
- B) Teknolojinin
- C) Dayanışmanın
- D) Bilimin

6. Hak ve özgürlüklerin korunmadığı bir toplumda aşağıdakilerden hangisi görülür?

- A) Yasa dışı davranışların azalması
- B) Sivil toplum kuruluşlarının zayıflaması
- C) Devlet organlarının görevlerini daha iyi yapması
- D) İnsanlara ve devlete olan güvenin artması

1. OTURUM

7. Aşağıdakilerden hangisi, insan haklarını korumakla yükümlü devlet organları arasında sayılamaz?
- A) Yargı organları
B) Sivil toplum örgütleri
C) Emniyet güçleri
D) Yasama organı
8. Aşağıdakilerden hangisi ülkemizdeki insan hakları danışma kurullarının görevlerindendir?
- A) İnsan haklarını çiğneyenleri mahkemelere sevk etmek
B) İnsan hakları konusunda yasalar çıkartmak
C) İnsan hakları ile ilgili sorunlara öneriler getirmek
D) İnsan hakları ile ilgili uluslar arası belgeleri imzalamak
9. Kuruluş amacı; tutuklulara kötü muamele yapılmasını önlemek, tutukluların adil yargılanmasını sağlamak, işkencenin önlenmesine, ölüm cezalarının kaldırılmasına çalışmak olan uluslar arası gönüllü kuruluş aşağıdakilerden hangisidir?
- A) Eğitim, Bilim ve Kültür Örgütü
B) Uluslar arası Af Örgütü
C) Dünya Sağlık Örgütü
D) Uluslar arası Çalışma Örgütü
10. Aşağıdakilerden hangisi T.C Devleti'nin millî güvenlik siyasetini belirleyen organlar arasında yer almaz?
- A) Türkiye Büyük Millet Meclisi
B) Hükümet
C) Millî Güvenlik Kurulu
D) Danıştay
11. Aşağıdakilerden hangisi T.C Devleti'nde askerliğin temel koşullarından değildir?
- A) Sağlıklı olmak
B) Erkek olmak
C) Okur – yazar olmak
D) 20 yaşını doldurmuş olmak
12. Toplum ve toplumsal kurumları hedef alıp yasalara karşı gelerek, yıkıcı, korkutucu ve vahşice yıldırma hareketlerinde bulunma, siyasal bir amaca ulaşmak için bilinçli bir şekilde şiddet uygulama.
Yukarıda anlatılmak istenen kavram hangisidir?
- A) Terör
B) Jeopolitik konum
C) Otorite
D) Millî Hedef
13. Aşağıdakilerden hangisi terörle mücadelede kişilere düşen görevlerden değildir?
- A) Millî hedefler doğrultusunda bilinçli olmak
B) Vatan ve bayrak sevgisi ile dolu olmak
C) Terörizme karşı duyarlı olmak
D) Teröre karşı ülkelerle işbirliği yapmak
14. “Dünyadaki milletler birbirleriyle ilişki içindedir. Bu bakımdan milletleri, aynı apartmanın değişik dairelerinde yaşayan ailelere benzetebiliriz. Eğer apartmanın bir dairesi ateşe verilirse, diğerlerinin yangının etkisinden kurtulmasına imkân yoktur.”
Atatürk bu sözyle aşağıdakilerden hangisini anlatmak istemiştir?
- A) Barışı sağlamanın imkânsız olduğunu
B) Barışın, milletlerin ortak katkısıyla sağlanabileceğini
C) Türkiye'nin jeopolitik konumunun önemli olduğunu
D) Farklı kültürlerin birbirleriyle çatıştığını
15. Aşağıdakilerden hangisi veya hangileri Türkiye'nin jeopolitik önemini sağlayan unsurlardandır?
- I- Asya ve Avrupa kıtalarının arasında yer alması
II- Enerji kaynaklarına yakın konumda olması
III- Akdeniz ve Karadeniz arasındaki geçişi sağlayan boğazlara sahip olması
- A) Yalnız I
B) Yalnız III
C) I – III
D) I – II – III
16. Hoşgörü kültürüne sahip olan bir bireyden aşağıdaki davranışlardan hangisi beklenmez?
- A) Farklı düşüncelere saygı göstermesi
B) İnsanları ön koşulsuz sevebilmesi
C) Başkalarına zarar verenlere hoşgörülü olması
D) Farklı inançlara sahip insanlara ayırım yapmaması
17. Aşağıdakilerden hangisi, insan haklarının korunmasında sivil toplum örgütlerinin görevlerinden değildir?
- A) İnsan hakları ile ilgili sorunlara dikkat çekerek kamuoyunu uyarmak
B) İnsan hakları ihlallerinden devlet yöneticilerinin haberdar olmasını sağlamak
C) Vatandaşları insan hakları konusunda aydınlatmak
D) İnsan haklarını yasalarla güvence altına almak

1. OTURUM

18. Aşağıdakilerden hangisi vatandaşlık görevlerinden değildir?

- A) Kanun yapmak
- B) Vergi vermek
- C) Askerlik yapmak
- D) Seçimlerde oy kullanmak

19. Aşağıdakilerden hangisi insan haklarının temel özelliklerinden değildir?

- A) Dokunulmaz
- B) Devredilmez
- C) Sınırsız
- D) Vazgeçilmez

20. Aşağıda verilenlerden hangileri, insan hakları eğitiminin bireylere kazandırdığı özelliklerdendir?

- I- İnsan olma bilinci
- II- Vatandaşlık bilinci
- III- İnsan haklarına saygı
- IV- İnsan haklarını talep etme

- A) I – II
- B) I – III
- C) I – II – IV
- D) I – II – III – IV

DİN KÜLTÜRÜ ve AHLAK BİLGİSİ - 8

1. Hz. Muhammed, çocuklara özellikle de yetim ve öksüz çocuklara sevgi ve şefkatle yaklaşırdı. Hayvanlara fazla yük yüklenmesine, eziyet edilmesine, onların aç ve susuz bırakılmasına karşı çıkar, bu konuda arkadaşlarını uyarırdı.

Peygamberimizin (s.a.v) bu tutumları, onun en çok hangi özelliğini örneklemektedir?

- A) Güvenilir oluşu
- B) Merhametli oluşu
- C) Sabırlı oluşu
- D) Doğru sözlü oluşu

2. Peygamberimiz zamanında Mescidi Nebi'nin temizliğine bakan bir kadın vardı. Hz. Peygamber bir ara onu göremeyince ashabına o kadını sordu. Kadının öldüğü bildirilince de "Bana haber vermeniz gerekmez miydi?" diyerek üzüntüsünü dile getirdi ve ashabına sitem etti. Sonra kabrini ziyaret ederek kadın için dua etti.

Bu olayı Peygamberimizin aşağıdaki özelliklerinden en çok hangisini kanıtlamak için anlatabiliriz?

- A) Hakkı gözetme
- B) İnsanlara değer verme
- C) İnsanların fikirlerini sorarak iş yapma
- D) Verdiği sözde durma

3. Aşağıdakilerden hangisi Hz. Muhammed'in danışarak iş yapmasına örnek teşkil etmez?

- A) Uhut Savaşı öncesinde savaşın nasıl yapılacağı konusunda insanların görüşlerine göre karar alması
- B) Hendek Savaşı öncesinde Selman-ı Farisi'nin şehrin etrafına hendek kazılması önerisine uyması
- C) Bedir Savaşı'nda Habbab b. Münzir'in önerisine göre Bedir kuyularının bulunduğu yeri karargâh yapması
- D) Din konusunda zorlamadan kaçınarak atalarının dinini yaşamak isteyenleri özgür bırakması

4. Hz. Muhammed, "Kıyamet gününde bir insan, şu dört şeyden sorgulanacaktır." dedikten sonra aşağıdakilerden hangisinden söz etmemiştir?

- A) Ömrünü nerede tükettiğinden
- B) Malını nerede kazanıp nereye harcadığından
- C) Dini kimden öğrendiğinden
- D) Bildiklerini uygulayıp uygulamadığından

5. Din ve kültür ilişkisine dair aşağıdaki açıklamalardan hangisi yanlıştır?

- A) Din toplumun kültüründen etkilenir ama kültürü etkilemez.
- B) Din, kültürün manevi öğelerinin biçimlenmesinde önemli etkilere sahiptir.
- C) Din, kültürün ayrılmaz bir ögesidir.
- D) Din kültür içinde önemli bir yere sahip olan dil ve edebiyata önemli etkilerde bulunur.

6. Tasavvuf edebiyatında en çok işlenen konu aşağıdakilerden hangisidir?

- A) Çevre ve doğa sevgisi
- B) Anne ve baba sevgisi
- C) Vatan ve millet sevgisi
- D) Allah ve insan sevgisi

7. Evrenin yaratılışı ile ilgili olarak aşağıdakilerden hangisi yanlıştır?

- A) Bir plan ve ölçü içinde var edilmiştir.
- B) Allah tarafından yaratılmıştır.
- C) Oluşumu ve bir düzen içine girmesi rastlantıya bağlıdır.
- D) Akılla kavranabilecek bir düzen içindedir.

8. Aşağıdakilerden hangisi dini bilmeyi gerektiren nedenlerden değildir?

- A) Dini değerler ile kültürel değerleri ayırt etmek için
- B) Kültürel değişmeyi önlemek için
- C) Kültür içindeki dine aykırı inanç ve uygulamaları (hurafeleri) fark etmek için
- D) Kültürel yabancılaşma ve çatışmayı önlemek için

1. OTURUM

9. Aşağıdaki cümlelerden hangisi Ayetel Kürsi'de yer alır?
- A) İhdines sırâtal mustakîm.
B) Ve lem yekûn lehû küfüven ehad.
C) Lâ te'huzühû sinetûv velâ nevm.
D) Min şerril vesvâsil hannâs.
10. Bilgi gerçekçilik, faydacılık ve teolojik bakımlardan değerlendirilebilir.
Aşağıdakilerden hangisi bilginin faydacılık değeri ile ilgilidir?
- A) İnsanlık için yararlı olma
B) Gözlem ve deneye dayalı olma
C) İnsanın hayatını anlamlandırma ve onu Rabb'ine götürme
D) Objektif, ön yargısız araştırmalara dayanma
11. Bir inanç ve düşünceye körü körüne bağlanmak ve ondan başkasını kabul etmemek, aşağıdakilerden hangisiyle isimlendirilir?
- A) Taklit
B) Taassup
C) Hurafe
D) Yozlaşma
12. Aşağıdakilerden hangisi taassubun sonuçlarından değildir?
- A) Başkalarının inanç, düşünce ve görüşlerine saygı göstermemek
B) Farklı kanaatlerde doğruluk payı bulunabileceğini kabul etmemek
C) Kendi inanç ve kanaatlerini kabul ettirebilmek için baskı ve zorlamaya başvurmak
D) Başka din ve inançlara karşı hoşgörülü olmak
13. İslam, akli kullanarak düşünmeyi aşağıdakilerden hangisi ile eşdeğer olarak kabul eder?
- A) Nafile ibadet
B) Sabah namazı
C) Ramazan orucu
D) Fıtır sadakası
14. Allah'ın bütün olayları ne zaman, nerede ve nasıl olacağını önceden bilip takdir etmesi aşağıdakilerden hangi kavramla ifade edilir?
- A) Vahiy
B) Kaza
C) Kader
D) Yaratma
15. "Allah'ın varlığına ve birliğine, Hz. Muhammed'in Allah'ın peygamberi olduğuna ve onun Allah'tan getirdiklerinin doğru olduğuna inanmak" şeklinde tanımlayabileceğimiz dinî terim aşağıdakilerden hangisidir?
- A) İman
B) Salih amel
C) Ecel
D) İrade
16. Aşağıdakilerden hangisi iman kavramı ile uyuşmaz?
- A) İman esaslarına inandığını söylemek
B) İman esaslarını kalbiyle onaylamak
C) İman esasları hakkında şüphe içinde olmak
D) İman esaslarını özgür iradeyle benimsemek
17. Aşağıdakilerden hangisi İslam'da emredilen zekât, sadaka ve yardımlaşmanın sonuçlarından değildir?
- A) Bireyler arasında bencilliğin yaygınlaşması
B) İnsanların birbirlerinin sıkıntılarına karşı duyarlı olmaları
C) Toplumda birlik ve beraberliğin pekişmesi
D) İnsanlar arasında sevgi, saygı, şefkat ve hoşgörünün artması
18. Mezhep hakkında aşağıdakilerden hangisi yanlıştır?
- A) Din anlayışındaki farklılıklar nedeniyle ortaya çıkan oluşumlardır.
B) Her dinde mezhepler vardır.
C) Mezheplerden hiçbirini dinle özdeşleştiremeyiz.
D) İslam'da mezhepler ilk kez Peygamberimiz zamanında görülmüştür.
19. İslam dini aşağıdakilerden hangisini yasaklamaz?
- A) Dini anlamak için akli kullanmayı
B) Başkalarını taklit etmeyi
C) Bağnazlığı
D) Zan ile hareket etmeyi
20. Dinlerde genel olarak hayvanlara şefkat ve merhametli davranılması esası bulunur. Ancak bazı dinlerde kimi hayvanlara bunların da ötesinde kutsallıklarından ötürü saygı vardır. Böylesi dinlerden olan Hinduizm'de aşağıdaki hayvanlardan hangisine yerin ve göğün anası olarak kabul edildiği için aşırı saygı gösterilir?
- A) Tavuk
B) İnek
C) Koyun
D) Deve

TEST BİTTİ.
CEVAPLARINIZI KONTROL EDİNİZ.

Soracağınız bir şey var mı? Varsa şimdi sorunuz; sınav başladıktan sonra sorularınıza cevap verilmeyecektir. Hazır mısınız?

Sınav okulun bütün salonlarında aynı anda başlayacağı için başlama zilini beraberce bekleyelim. Hepinize başarılar dileriz. **(Salon başkanları başlama ve bitiş saatini tahtaya yazacaktır.)**

Bu kitapçığın her hakkı saklıdır. Hangi amaçla olursa olsun, kitapçığın tamamının veya bir kısmının Millî Eğitim Bakanlığı Eğitim Teknolojileri Genel Müdürlüğü'nün yazılı izni olmadan kopya edilmesi, fotoğraflarının çekilmesi, bilgisayar ortamına alınması, herhangi bir yolla çoğaltılması, yayımlanması veya başka bir amaçla kullanılması yasaktır. Bu yasağa uymayanlar, doğabilecek cezai sorumluluğu ve kitapçığın hazırlanmasındaki malî külfeti peşinen kabullenmiş sayılır.

CEVAP ANAHTARLARI

TÜRKÇE - 6

1. A
2. C
3. C
4. D
5. A
6. C
7. A
8. D
9. B
10. C
11. C
12. B
13. D
14. D
15. C
16. B
17. B
18. A
19. D
20. A

SOSYAL BİL. - 6

1. D
2. A
3. C
4. B
5. A
6. B
7. D
8. C
9. C
10. C
11. B
12. C
13. D
14. B
15. D
16. A
17. B
18. D
19. A
20. D

TURİZM - 6

1. A
2. B
3. C
4. B
5. A
6. D
7. C
8. D
9. B
10. A
11. C
12. D
13. D
14. A
15. C
16. B
17. C
18. D
19. B
20. A

FEN BİL. - 8

1. C
2. D
3. B
4. A
5. B
6. C
7. A
8. C
9. B
10. D
11. A
12. D
13. B
14. D
15. C
16. C
17. A
18. B
19. B
20. A

DİN KÜL. ve AHLAK. BİL -8

1. B
2. B
3. D
4. C
5. A
6. D
7. C
8. B
9. C
10. A
11. B
12. D
13. A
14. C
15. A
16. C
17. A
18. D
19. A
20. B

FEN BİL. - 6

1. D
2. B
3. C
4. A
5. C
6. B
7. A
8. C
9. D
10. C
11. B
12. D
13. B
14. C
15. B
16. A
17. D
18. C
19. D
20. A

GÜZEL KONUŞMA ve YAZMA - 6

1. A
2. B
3. C
4. A
5. C
6. C
7. B
8. D
9. B
10. A
11. B
12. A
13. C
14. D
15. C
16. B
17. A
18. D
19. D
20. C

TÜRKÇE - 8

1. B
2. A
3. C
4. C
5. A
6. B
7. A
8. C
9. D
10. B
11. A
12. B
13. D
14. D
15. C
16. A
17. B
18. A
19. C
20. D

VATANDAŞLIK ve İNSAN HAKLARI - 8

1. D
2. C
3. A
4. A
5. C
6. B
7. B
8. C
9. B
10. D
11. C
12. A
13. D
14. B
15. D
16. C
17. D
18. A
19. C
20. D